







Приближённые значения чисел. Округление чисел.

- 4.02.22г. (для 5А)
- Учитель математики: Лободенко С.Б.



Округление чисел



2. Графический диктант.

(Ответ «да» соответствует $_$, ответ «нет» — \wedge .)

1) $12,88 \approx 13$

6) $0,693 \approx 0,7$

2) $3,08 \approx 3,1$

7) $8,044 \approx 8,0$

3) $0,789 \approx 0,79$


8) $5,698 \approx 0,7$

4) $9,8 \approx 9$

9) $3,87542 \approx 3,8754$

5) $0,21 \approx 1$

10) $0,9985 \approx 1$



Округление чисел

а) Округлите числа до десятых.

$$6,713 \approx$$

$$0,849 \approx$$

$$2,385 \approx$$

$$9,25 \approx$$

$$16,051 \approx$$

Округление чисел

б) Округлите числа до сотых.

$$0,526 \approx$$

$$7,663 \approx$$


$$3,964 \approx$$

$$8,555 \approx$$

$$2,408 \approx$$


Округление чисел




- в) Округлите числа до десятков
 $413,3 \approx$ $273,58 \approx$ $664,3 \approx$
- г) Округлите числа до сотен.
 $801,9 \approx$ $1267,1 \approx$ $2405 \approx$



Домашняя работа

Выполнить контрольную работу,





Контрольная работа

Сложение и вычитание десятичных дробей.

Округление

Контрольная работа № 9. Сложение и вычитание десятичных дробей. Округление чисел

Вариант 1

- Сравните числа.
 - 4,2 и 4,196; б) 0,448 и 0,45.
- Выполните действия.
 - $84,37 - 32,683 - (3,56 + 4,44)$;
 - $300 - (6,56 - 3,568 + 193)$.
- Скорость катера по течению реки 39,1 км/ч. Собственная скорость катера 36,5 км/ч. Найдите скорость течения реки и скорость катера против течения.
- Округлите числа:
 - до десятых: 8,96; 3,05; 4,64;
 - до сотых: 3,052; 4,025; 7,086;
 - до единиц: 657,29; 538,71.
- Выразите в тоннах 3 т 247 кг; 298 кг; 93 кг; 6265 кг.
- *. Расплачиваясь за покупку трех елочных игрушек, покупатель получил 50 рублей сдачи. Если бы он купил пять таких игрушек, то ему пришлось бы добавить 50 рублей. Сколько стоит одна елочная игрушка?
- *. Напишите три числа, которые больше чем 6,44, но меньше чем 6,46.

